

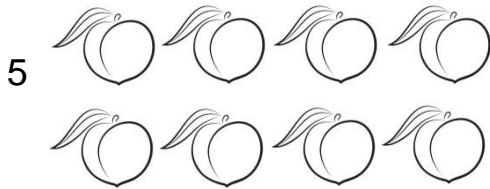
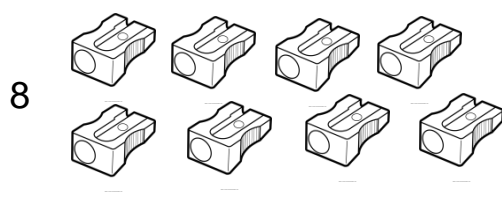
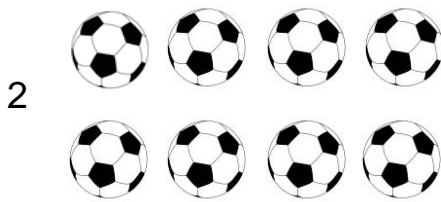


Guía complementaria de Matemáticas - 1° Básico

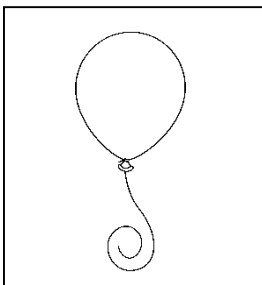
Nombre: _____ Fecha: ___/___/20


En esta ficha podrás reforzar la lectura, escritura, conteo, composición y descomposición, comparación y orden, adición y sustracción con números hasta el 10.


1.- Encierra tantos elementos como indica el número.

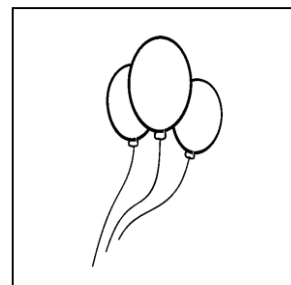


2.- Cuenta los globos y escribe el número que corresponde.









3.- Busca tres maneras de descomponer cada número. Pinta y escribe los resultados.

7

→	<input type="text"/>	<input type="text"/>	más	<input type="text"/>
→	<input type="text"/>	<input type="text"/>	más	<input type="text"/>
→	<input type="text"/>	<input type="text"/>	más	<input type="text"/>

5

→	<input type="text"/>	<input type="text"/>	más	<input type="text"/>
→	<input type="text"/>	<input type="text"/>	más	<input type="text"/>
→	<input type="text"/>	<input type="text"/>	más	<input type="text"/>

4.- Encierra la colección donde hay **más** ●.

<input type="text"/>	● ●
<input type="text"/>	● ● ● ● ● ●

<input type="text"/>	● ● ● ●
<input type="text"/>	● ● ● ● ●

<input type="text"/>	● ● ● ● ● ●
<input type="text"/>	● ● ● ● ●

<input type="text"/>	●
<input type="text"/>	● ● ● ● ●

5.- Encierra la colección donde hay **menos** ○.

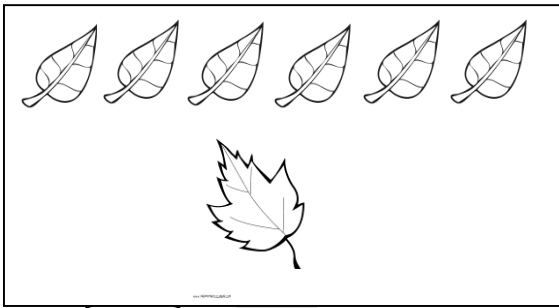
<input type="text"/>	○ ○ ○ ○ ○ ○ ○ ○
<input type="text"/>	○ ○ ○ ○ ○ ○

<input type="text"/>	○ ○ ○ ○ ○ ○ ○ ○ ○ ○
<input type="text"/>	○ ○ ○ ○ ○ ○ ○ ○


<input type="text"/>	○ ○ ○ ○ ○ ○ ○ ○
<input type="text"/>	○ ○ ○ ○ ○

<input type="text"/>	○ ○ ○ ○ ○ ○ ○ ○ ○ ○
<input type="text"/>	○ ○ ○ ○ ○ ○ ○ ○ ○ ○ ○ ○

6.- Cuenta, junta y completa.




$$\square + \square = \square$$

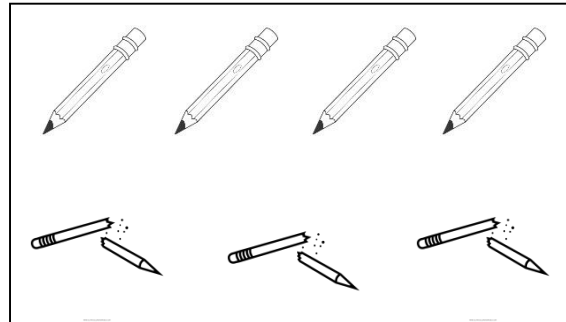


$$\square + \square = \square$$

7.- Escribe la sustracción representada en cada situación y resuélvela.



$$\square - \square = \square$$



$$\square - \square = \square$$

8.- Escribe los números del 0 al 25 en la línea.

_____ - _____ - _____ - _____ - _____ - _____ - _____ - _____ - _____

_____ - _____ - _____ - _____ - _____ - _____ - _____ - _____ - _____

_____ - _____ - _____ - _____ - _____ - _____ - _____ - _____ - _____

_____.

Adición y sustracción.

La **adición** es una operación que se relaciona con **juntar** y **agregar**. Se representa con el signo **+** (más).

La **sustracción** es una operación que se relaciona con **separar** y **quitar**. Se representa con el signo **-** (menos).

9.- Resuelve las siguientes operaciones. Fíjate bien en el signo.

$3 + 6 = \square$

$2 + 3 = \square$

$5 + 1 = \square$

$8 - 2 = \square$

$7 - 1 = \square$

$5 - 3 = \square$

$2 + 4 = \square$

$9 - 8 = \square$

$3 + 3 = \square$